

# Boîte à problèmes

## Les bonbons



2 enfants, Joséphine et Charles, se partagent 20 bonbons.  
Combien en auront-ils chacun ?

Il y a 20 bonbons : il y a autant de bonbons jaunes, que de bonbons rouges, que de bonbons oranges, que de bonbons violets.

Combien de bonbons de chaque couleur y a-t-il ?

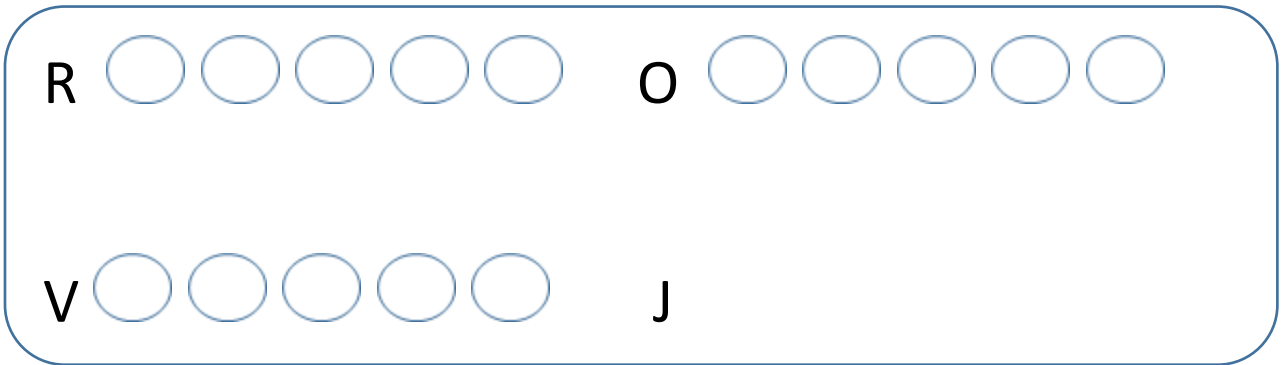
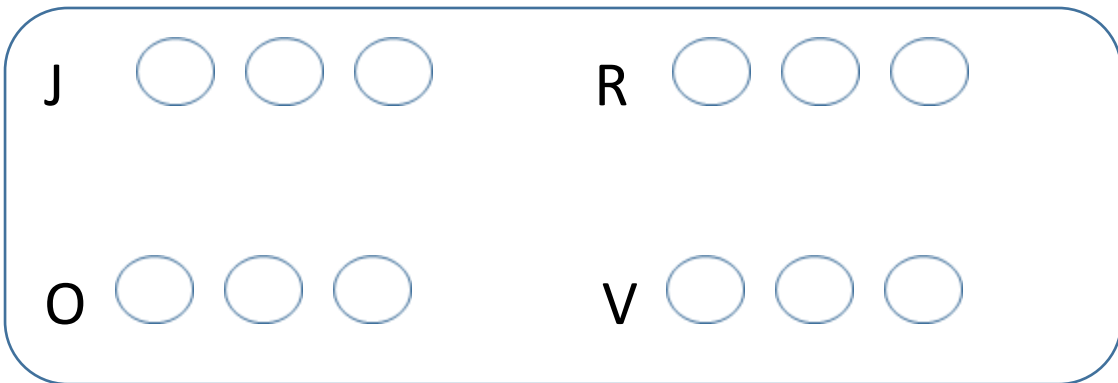
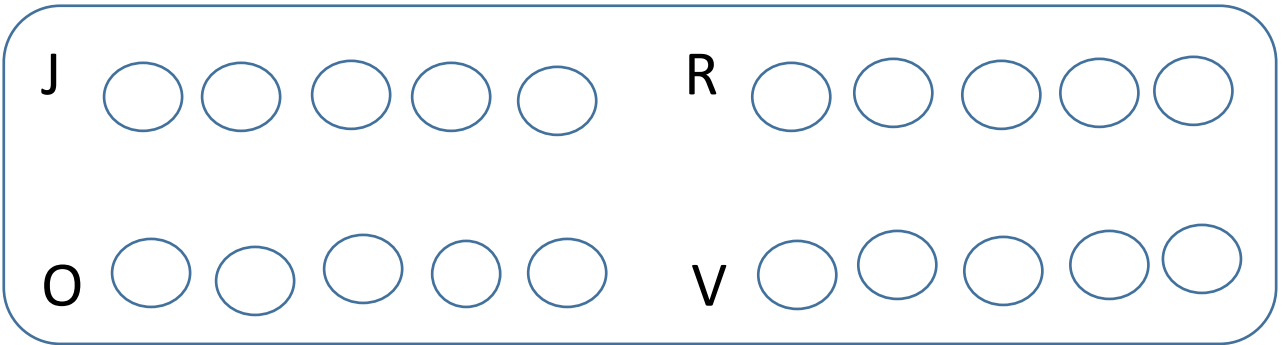
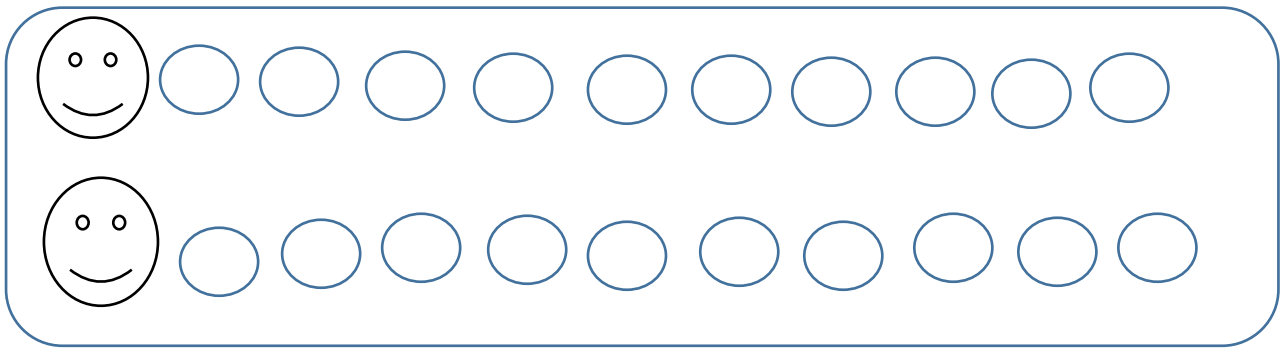
Je prends 3 bonbons jaunes, 3 bonbons rouges,  
3 bonbons oranges, 3 bonbons violets.  
J'ai combien de bonbons en tout ?

J'ai 20 bonbons. 5 bonbons sont rouges, 5 bonbons sont  
oranges, 5 bonbons sont violets. Combien de bonbons  
sont jaunes ?

Joséphine a mangé 5 bonbons, Charles a mangé 7 bonbons.  
Combien ont-ils mangé de bonbons en tout ?  
Il y avait 20 bonbons. Combien en reste-t-il ?







J ○ ○ ○ ○ ○

C ○ ○ ○ ○ ○ ○ ○

ⓧ ⓧ ⓧ ⓧ ⓧ ⓧ ⓧ ⓧ ⓧ ⓧ

ⓧ ⓧ ○ ○ ○ ○ ○ ○ ○ ○