

ANNEXE 1

Exercices pour les CM1 (Objectif Calcul CM1, Hatier p 79)

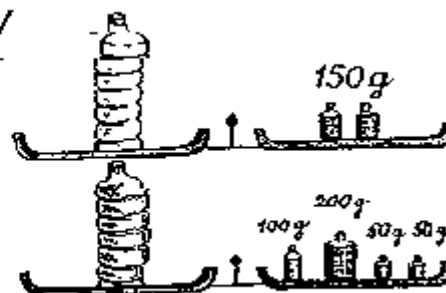
Observe :

a/



Quel est le poids des fruits ?

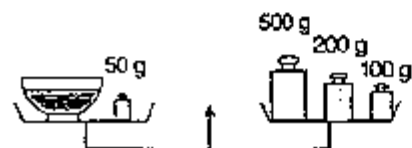
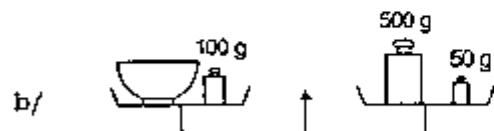
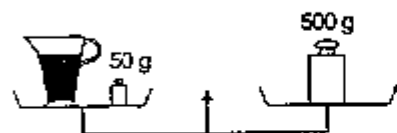
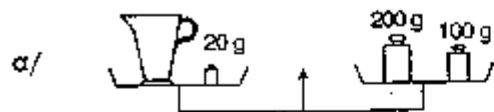
b/



Quel est le poids de l'eau ?

Exercices pour les CM2 (Le Nouvel Objectif Calcul CM2, Hatier p 153)

Observe les pesées successives et trouve le poids du contenu de chaque récipient :



Quel est le poids de la balle ?
Quel est le poids du paquet ?

